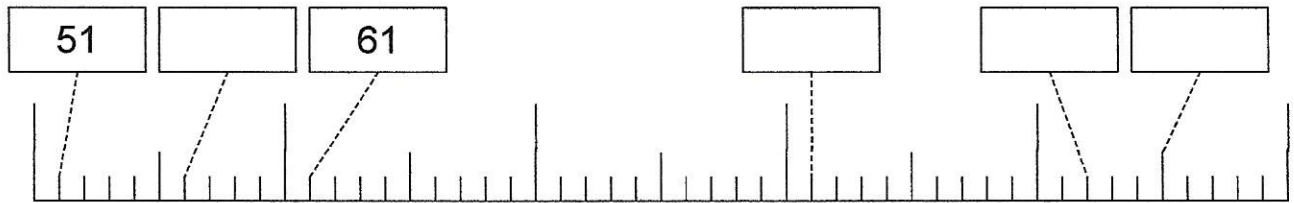
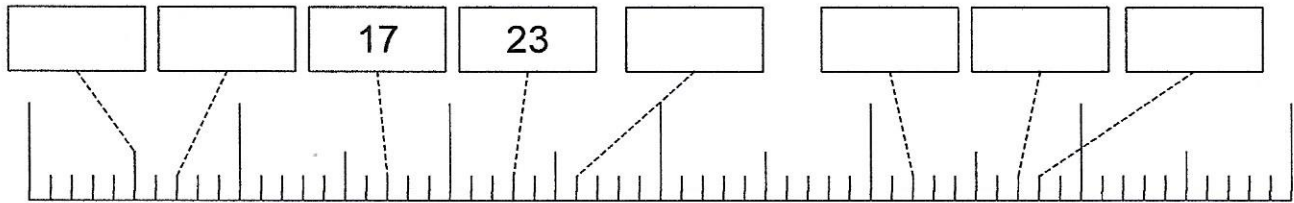


Name:

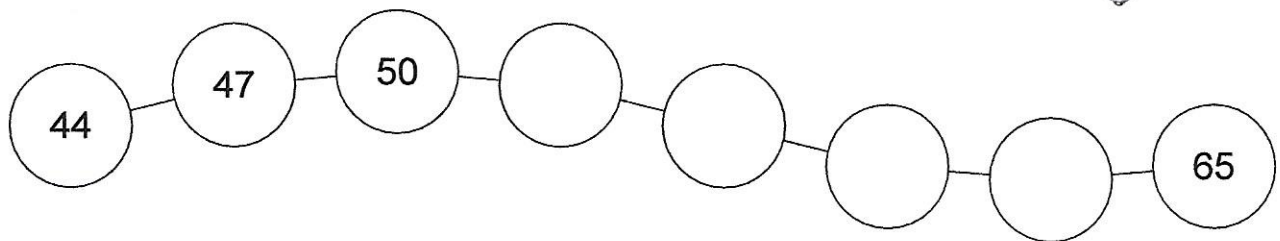
Datum:

Seite:

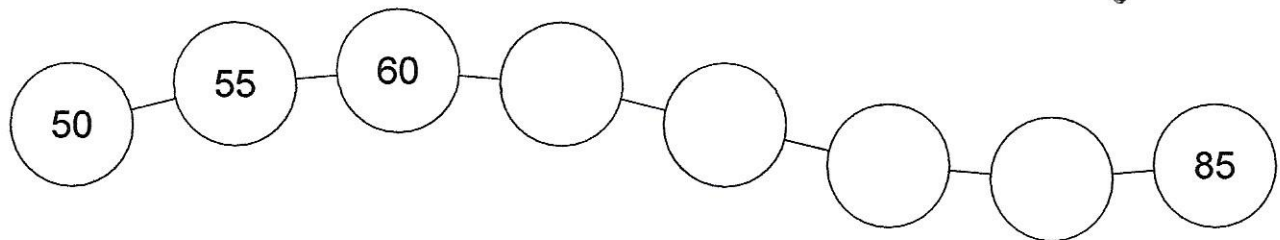
1. Trage die fehlenden Zahlen ein:



2. Immer 3 mehr. Ergänze die fehlenden Zahlen:



3. Immer 5 mehr. Ergänze die fehlenden Zahlen:



4. Wiederholung: Plus und Minus

$$\underline{\quad} + 40 = 55$$

$$\underline{\quad} + 40 = 60$$

$$\underline{\quad} + 40 = 65$$

$$\underline{\quad} + 40 = 70$$

$$\underline{\quad} + 40 = 75$$

$$\underline{\quad} + 40 = 80$$

$$20 + 27 = \underline{\quad}$$

$$\underline{\quad} + 27 = 52$$

$$\underline{\quad} + 27 = 57$$

$$35 + 27 = \underline{\quad}$$

$$40 + 27 = \underline{\quad}$$

$$45 + \underline{\quad} = 72$$

